

Олимпиадная работа
муниципального этапа всероссийской олимпиады школьников

по географии

учащегося 9 класса

муниципального бюджетного общеобразовательного учреждения
«Средняя общеобразовательная школа №16
с углубленным изучением отдельных предметов»

_____ Платонова Андрея Ярославовича
(ФИО полностью)

Педагог-наставник:

учитель географии

МБОУ «СОШ №16 с УИОП»
(наименование ОУ)

Кожевникова Ираида Ивановна
(ФИО полностью)

Итого: 54,55

	Задание 1	Задание 2	Задание 3	Задание 4	Задание 5	тест	итого
Баллы	25	4,55 балла	115 балла	155 балла	125	130 балла	545,55

**Задания муниципального этапа
всероссийской олимпиады школьников по географии
2025-2026 учебный год, 9 класс**

Время выполнения – 180 минут

Максимальный балл – 143

Не разрешается пользоваться атласами, любыми справочными данными, в том числе сотовыми телефонами, и прочими гаджетами. Пишите разборчиво! Удачи!

Аналитический раунд**Задание 1.**

Максимальное количество баллов – 12

95

Прочтите стихотворение В.Брюсова, ответьте на вопросы.

От пышно-полноводной Ладоги

Полями радостно открытыми,

До сумрачных балтийских вод,

Прислушиваясь к шуму стад,

То преломляя краски радуги,

И, алыми, во мгле, гранитами,

То зыбля дымный пароход, -

Глядя, как сфинксы мирно спят...

О какой реке идет речь?

Определите уклон реки, если известна длина (74 км) и высота истока (4 м). Запишите расчеты.

74 км: 4 м = 0,05 м/км

По каким 2 субъектам Российской Федерации она протекает? Ленинградская обл.,Ямало-Ненецкий АО

По геологическому возрасту молодой или древней можно считать эту реку? Аргументируйте

ответ. Молодой**Задание 2.**

Максимальное количество баллов – 17

Задание по топографической карте

Внимательно рассмотрите часть топографической карты. Ответьте на вопросы.

1. Определите и запишите именованный масштаб карты.

В 1 см 100 м

2. Перечислите способы, с помощью которых можно определить масштаб этой карты.

По ширине реки3. Определите, через сколько метров проведены горизонталы. 950 м

4. Определите географические координаты г. Михалинская

5. Определите истинный и магнитный азимуты направления движения с г. Карьерная на г. Михалинская, если магнитное склонение западное 2°. Истинный: 77° Магнитный: 75°

6. К северо-востоку от г. Михалинская находится лес. Как он называется? Охарактеризуйте его (укажите породу деревьев и количественные характеристики)

лес северный: сосновый 1

7. Чему будет равно атмосферное давление на уровне уреза воды р.Соть, если на г.Михалинская оно соответствует нормальному атмосферному давлению. Расчеты запишите.

$$(222,8 - 108,4) \cdot 0,1 = 0,1 \quad 0,1 \cdot 10 \text{ мм. рт.ст.} = 1 \text{ мм. рт.ст.} \quad 760 + 1 = 761 \text{ мм. рт.ст.}$$

8. Какой берег у р.Соть пологий? левый

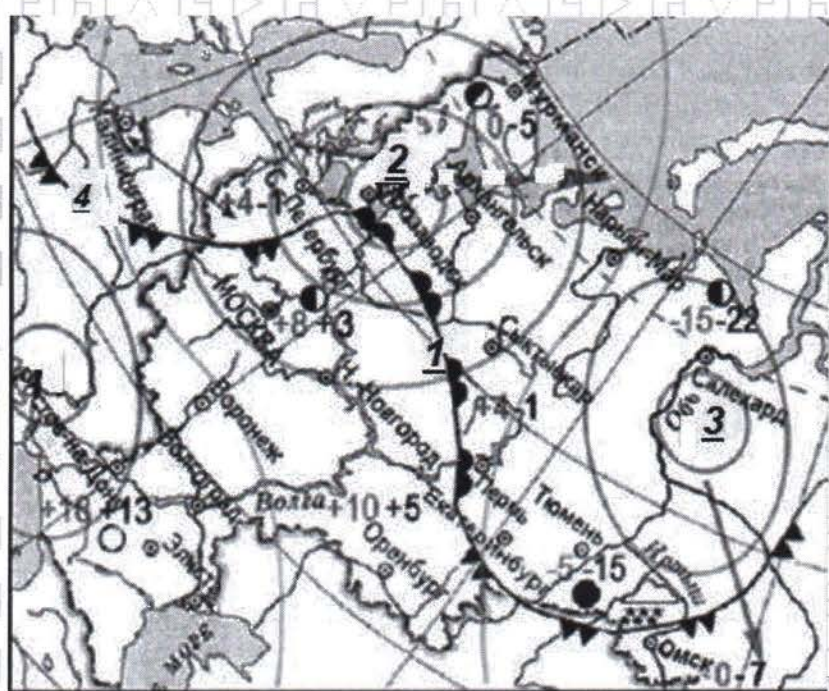
9. Перечислите, какие пути сообщения ведут к угольным шахтам? автомобильная дорога

10. Верно ли, что шахты являются недействующими? нет

Задание 3.

Максимальное количество баллов — 15

115



ис.1. Карта погоды (на 9 апреля 2009 года)

1. В каком из городов 10 апреля 2009 года прогнозировалось наиболее вероятное существенное похолодание (рис.1)?

Омск 3 5

2. Какой тип атмосферного фронта изображен на рисунке 2?

теплый 2 5

Какой цифрой фронт такого типа отмечен на рисунке 1?

1 1 5

3. Какой тип погоды характерен для города, который расположен на широте 66,5° с.ш.?

Холодная зима с обильными осадками, снежное лето

4. Над какими территориями формируются циклоны, приходящие на Европейскую часть России?

над Атлантическим океаном 1 5

5. Как называется атмосферный вихрь, изображенный на рисунке 3?

циклон 2 5

Какой области, в центральной части отмеченной цифрой (2 или 3), он соответствует на карте?

2 2 5




Рис.2



Рис.3

Задание 4. Максимальное количество баллов – 18

В 2025 году отмечается 80-летие Победы в Великой Отечественной войне. Эта Победа досталась СССР ценой невероятных жертв и лишений. Помним и чтим подвиг наших дедов и прадедов, отстоявших свободу и независимость Родины, подаривших жизнь новым поколениям своих потомков.

Говоря о подвиге отдельных городов, мы вспоминаем героизм самоотверженности всего народа. Определите по краткому описанию город и сопоставьте его с фотографией города. Заполните таблицу.

Краткое описание подвига

А - Город-герой, население которого перенесло почти 900 дней боли и страдания, мужества, доблести и терпения, не имея сообщения по суше с остальной частью страны.

Б - Город-герой испытал беспрецедентно долгую и ожесточённую осаду, ведя оборонительные бои с октября 1941 года по июль 1942 года. Город был выгоревшим дотла.

В - Город, на территории которого находится крепость-герой, которая одной из первых в июне 1941 года приняла удары гитлеровской армии, один из самых известных символов стойкости и героизма защитников Отечества.

Г - Город-герой, который в октябре-декабре 1941 года героически сдерживал натиск врагов, предотвратив прорыв к Москве и устоял, не будучи захваченным противником.

Д - Город-герой, защитники которого героически сражались с врагом на суше, в воздухе и на море. За время войны город выгорел почти на две трети.

Е - Место одной из самых продолжительных и кровопролитных битв в истории, которая стала поворотным моментом в войне. Защитники города проявили невероятное мужество и стойкость, обороняя его 200 дней и ночей.

Краткое описание города

А. Город федерального значения, расположен на побережье моря в области умеренно-континентального климата с чертами средиземноморского.

Б. Крупнейший в мире по числу жителей город за Северным полярным кругом, незамерзающий порт, специализируется среди прочих направлений на судоремонте.

В. Город на правом берегу реки, крупный транспортный узел, крупнейший промышленный центр в области. В южной части города берет начало судоходный канал.

Г. Крупный региональный центр обрабатывающей промышленности; в числе прочих здесь находится производство газовых плит «Гефест».

Д. Крупный промышленный, научный и культурный центр. В народе широко известен производством оружия, самоваров и пряников.

Е. Самый северный город-миллионник в мире, трижды менял название. Здесь расположены судостроительный, тракторный, трубный заводы и другие предприятия.

№	Название города	Подвиг	Описание города	№ рисунка	Название города	Подвиг	Описание города
1	Санкт-Петербург 1	А 1	А 0	4	Мурманск 1	Д 1	Б 1
2		Б 1	Е 0	5	Волгоград 1	Е 1	В 1
3	Тула 1	Г 1	Д 1	6	Брест 1	В 1	Г 1

158




Рис.1



Рис.2



Рис.3




Рис.4



Рис.5




Рис.6

Задание 5. Максимальное количество баллов — 61

Задания на знание географической номенклатуры (по 1 баллу за верный ответ)

Во вторую колонку таблицы следует записывать номер объекта, который в вопросах отмечен подчёркиванием. Цифровое обозначение государств или крупных регионов на карте проставлено около их административных центров, названия рек — около их устьев.

Вопрос	№ на карте	Дополнительные вопросы	Ответ
1. Самый крупный остаток первобытного реликтового <u>леса</u> на территории Европы		Запишите: а) его название; б) названия государств, на которых расположен данный лес; в) названия столиц этих государств	
2. Это явление распространено на острове Гомера и получило название «сильбо гомеро». Долгое время оно считалось единственным в своём роде. Сегодня известно, что посредством такого способа могут общаться в а) Греции, б) Турции, в) Мексике, г) Индии, французских д) Пиренеях, е) Зимбабве и ж) <u>Замбии</u>	а-б-в-г-д-е-ж-з-	Запишите: а) к какому <u>архипелагу</u> относится остров Гомера; б) в состав какого государства входит архипелаг; в) каково происхождение островов В случае неправильно указанных названий номер на карте не зачитывается	б) Вулканские
3. Какие страны омываются водами некогда крупного <u>моря</u> , но при этом не имеют выхода к Мировому океану?		Запишите: а) название моря; б) названия стран; в) к какой языковой семье относится население этих стран	
4. Самая высокая <u>горная вершина</u> Антарктиды		Запишите: а) название горного массива;	г) США

		<p>б) какому государству принадлежит эта территория;</p> <p>в) название природной зоны, в которой расположен массив</p>	<p>Иберк</p> <p>в) Хиросима Пустыни</p>
<p>5. Регион/территория за которой большинством исследователей признаётся первенство возникновения письменности (не иероглифики)</p>		<p>Запишите:</p> <p>а) название <u>территории</u>;</p> <p>б) народ, создавший первую письменность;</p> <p>в) что явилось носителем для записей</p>	<p>а) Месопотамия</p> <p>б) Майя</p> <p>в) Узоры</p>
<p>6. В какой стране находится самое высокогорное постоянное поселение</p>		<p>Запишите:</p> <p>а) название <u>страны</u> и её столицы;</p> <p>б) название горной системы, в пределах которой находится эта страна;</p> <p>в) название уникального озера, расположенного на юго-восточной границе;</p> <p>г) в чем уникальность озера</p>	<p>а) Китай Пекин</p> <p>б) Гималаи</p>
<p>7. Какие из перечисленных объектов не являются полуостровами:</p> <p>А) Малакка, В) Малая Азия, С) Маракайбо,</p> <p>Д) Лабрадор, Е) Юкатан,</p> <p>Ф) Бретань, Г) Хайнань</p> <p>(при указании номеров в ответе соблюдайте заданную последовательность, если ответ не знаете, ставьте прочерк)</p>	<p>А:</p> <p>В:</p> <p>С:</p> <p>Д:</p> <p>Е:</p> <p>Ф:</p> <p>Г:</p>	<p>Запишите:</p> <p>чем является каждый из выбранных вами объектов (не полуостровов)</p>	<p>А)</p> <p>С) остров 1б</p> <p>Ф) остров</p>
<p>8. Крупнейший в мире архипелаг по количеству островов</p>	<p>В поле для ответов</p>	<p>Запишите:</p> <p>а) название архипелага;</p> <p>б) названия <u>пяти самых больших островов</u> в его составе + укажите цифры, которыми отмечены эти острова;</p> <p>в) преобладающий тип естественной растительности</p>	<p>а) Оксидентия</p> <p>б) Суมาตรา</p> <p>в) влажные экваториальные леса 1б</p>
<p>9. Каких животных завезли в Якутию из Канады, которые успешно адаптировались к суровым условиям проживания?</p>		<p>Запишите:</p> <p>а) название животных;</p> <p>б) в скольких часовых поясах расположена Якутия;</p>	<p>а)</p> <p>б) 3</p>
<p>10. На берегах какой реки расположен город Красноярск?</p>		<p>Запишите:</p> <p>а) названия реки;</p> <p>б) название ГЭС, которая является самой мощной в России;</p>	<p>а) Енисей 1б</p> <p>б) Саяно-Шушенская ГЭС 1б</p>

ТЕСТОВЫЙ РАУНД

(за каждый верный ответ- 1 балл, максимально – 20 баллов)

135

1. г 1	2. г 1	3. б 1	4. а 1	5. б 0	6. а 0	7. а 0	8. б 0	9. б 0	10. а 1
11. б 0	12. б 0	13. б 1	14. б 1	15. б 1	16. г 1	17. б 1	18. а 1	19. а 1	20. г 1

- Какое озеро является самым северным в России из перечисленных:
а) Селигер, б) Ханка, в) Ладожское, г) Таймыр.
- К горным областям герцинской складчатости принято относить:
а) Восточный Саян; б) Пиренеи; в) Карпаты; г) Алтай.
- Река, относящаяся к бассейну Атлантического океана:
а) Северная Двина, б) Кубань, в) Печора, г) Урал.
- Остров, на котором расположена столица государства:
а) Новая Гвинея, б) Кергелен, в) Крит, г) Кюсю.
- Какой из перечисленных объектов является полуостровом?
а) Эйяфьядлайёкюдль, б) Салентина, в) Ньюфаундленд, г) Шатт-эль-Араб.
- Форма рельефа, созданная горным ледником:
а) кар, б) карры, в) булгуннях, г) озовая гряда.
- Какие почвы характерны для Карелии?
а) мерзлотно-таёжные, б) бурые лесные, в) серые лесные, г) подзолистые.
- Столица какой страны ранее носила название Целиноград?
а) Таджикистан, б) Узбекистан, в) Казахстан, г) Туркмения.
- Для какой территории характерен флористический ландшафт каатинга или «лес без тени»?
а) Бразильское плоскогорье, б) Лаврентийская возвышенность, в) впадина Калахари, г) Восточно-Африканское плоскогорье.
- Что на Земле не влияет на смену времен года?
а) вращение Земли вокруг своей оси, б) вращение Земли вокруг Солнца, в) наклон земной оси к плоскости орбиты, г) форма земной орбиты.
- В каком из перечисленных городов максимальная среднемесячная температура наблюдается весной?
а) Рабат, б) Пекин, в) Амман, г) Дели.
- Приток Лены с эвенкийским названием Сиинэ в русском языке превратился в Синюю, но поскольку река берёт начало в торфяном болоте, вода в ней:
а) красная, б) белая, в) чёрная, г) жёлтая.
- Субъект РФ, в котором распространена светлохвойная тайга:
а) Вологодская область, б) Республика Саха-Якутия, в) Республика Татарстан, г) Брянская область.
- Какой прибор предназначен для измерения расстояний и превышений одной точки над другой?
а) анемометр, б) буссоль, в) нивелир, г) ватерпас.
- Где образуется новая земная кора океанического типа?
а) во внутренних морях, б) в океанических желобах, в) в зоне срединно-океанических хребтов, г) в области островных дуг.
- Какой вулкан находится на острове недалеко от столицы государства?
а) Ключевская Сопка, б) Тятя, в) Кракатау, г) Фудзияма.
- Вследствие потепления климата в Казани появились птицы, которые не характерны для территории Татарстана. Это –
а) свиристели, б) бакланы, в) утки, г) дрозды.
- Какое кругосветное путешествие будет короче:
а) по параллели 50° ю.ш., б) по меридиану 50° в.д.

09-64

в) по экватору, г) по параллели 10° с.ш.

19. Какие из перечисленных названий природных объектов не принадлежат вулканам?
а) Мауна-Лоа, б) Поопо, в) Килауза, г) Ключевская сопка.

20. На какой территории была зарегистрирована относительная влажность воздуха 0%?
а) Антарктида, б) Сахара, в) Эверест, г) на Земле нет такого места.

